








## Printpagina's

- Getallen tot 100: deze pagina op gewoon papier printen zodat de deelnemers er op kunnen schrijven. Je kunt de pagina ook op harder papier printen en plastificeren. De deelnemers hebben dan wel een witbordstift nodig om er op te schrijven. Voordeel hiervan is dat de kaart telkens opnieuw gebruikt kan worden want de antwoorden kunnen uitgewist worden. Een exemplaar per deelnemer.
- Munten en biljetten: verknippen tot 15 kaartjes. Een pakketje kaarten per groepje deelnemers.
- Productkaartjes: verknippen tot 25 kaartjes. Een pakketje kaarten per groepje deelnemers.
- In de winkel: versie A en B. Deze pagina op gewoon papier printen, hoeft niet in kleur. De helft van de deelnemers krijgt versie A, de andere helft krijgt versie B.


























1	2	3	4	5	6	7	8	9	10
11	12	13	14	15	16	17	18	19	20
21	22	23	24	25	26	27	28	29	30
31	32	33	34	35	36	37	38	39	40
41	42	43	44	45	46	47	48	49	50
51	52	53	54	55	56	57	58	59	60
61	62	63	64	65	66	67	68	69	70
71	72	73	74	75	76	77	78	79	80
81	82	83	84	85	86	87	88	89	90
91	92	93	94	95	96	97	98	99	100





In de winkel = versie A

 € 0,90	500 gram kaas  € .....	 € 1,70	1 pak boter 250 gram  € .....	 € 0,80
1 kilo bananen  € .....	 € 1,30	1 kilo appelsienen  € .....	 € 1,10	1 ananas  € .....
 € 1,60	1 kilo wortels  € .....	 € 0,90	1 kilo tomaten  € .....	 € 2,10
1 kilo vlees (rund)  € .....	 € 23,40	1 pak chocolade 400 gram  € .....	 € 1,30	1 liter water  € .....
 € 1,20	1 tube tandpasta  € .....	 € 3,20	1 fles shampoo  € .....	 € 5,80

Hoeveel kost een liter melk?

Een liter melk kost 90 cent.

In de winkel = versie B

<p>1 liter melk</p>  <p>€ .....</p>	<p>1 kilo kaas</p>  <p>€ 4,20</p>	<p>1 doos eieren</p>  <p>€ .....</p>	<p>1 pak kaas</p>  <p>€ 1,50</p>	<p>1 pot yoghurt 150 gram</p>  <p>€ .....</p>
<p>1 kilo appels</p>  <p>€ 2,00</p>	<p>1 kilo appels</p>  <p>€ .....</p>	<p>1 kilo appels</p>  <p>€ 1,60</p>	<p>500 gram citroenen</p>  <p>€ .....</p>	<p>1 kilo appels</p>  <p>€ 2,80</p>
<p>1 kilo aardappelen</p>  <p>€ .....</p>	<p>1 kilo appels</p>  <p>€ 0,50</p>	<p>1 sla</p>  <p>€ .....</p>	<p>1 kilo appels</p>  <p>€ 1,70</p>	<p>1 bloemkool</p>  <p>€ .....</p>
<p>1 kilo vis (zalm)</p>  <p>€ 16,80</p>	<p>1 kilo vis (zalm)</p>  <p>€ .....</p>	<p>1 liter limonade</p>  <p>€ 3,10</p>	<p>1 liter limonade</p>  <p>€ .....</p>	<p>1 liter limonade</p>  <p>€ 0,60</p>
<p>1 stuk zeep</p>  <p>€ .....</p>	<p>1 tandenborstel</p>  <p>€ 2,40</p>	<p>1 tandenborstel</p>  <p>€ .....</p>	<p>1 pak toilet papier</p>  <p>€ 2,30</p>	<p>1 pak toilet papier</p>  <p>€ .....</p>

Hoeveel kost een liter melk?

Een liter melk kost 90 cent.